

**ВПР по окружающему миру 4 класс 2021. Вариант 1.**

При выполнении заданий с кратким ответом впишите в поле для ответа цифру, которая соответствует номеру правильного ответа, или число, слово, последовательность букв (слов) или цифр. Ответ следует записывать без пробелов и каких-либо дополнительных символов.

Если вариант задан учителем, вы можете вписать или загрузить в систему ответы к заданиям с развернутым ответом. Учитель увидит результаты выполнения заданий с кратким ответом и сможет оценить загруженные ответы к заданиям с развернутым ответом. Выставленные учителем баллы отобразятся в вашей статистике.

**1.** Рассмотрни рисунок, на котором изображён магазин подарков. Коробки для подарков могут быть изготовлены из картона. Они отмечены на рисунке стрелкой с соответствующей надписью.

Покажи на рисунке стрелкой любой предмет (любую деталь) из глины и любой предмет (любую деталь) из металла. Подпиши название соответствующего материала рядом с каждой стрелкой.



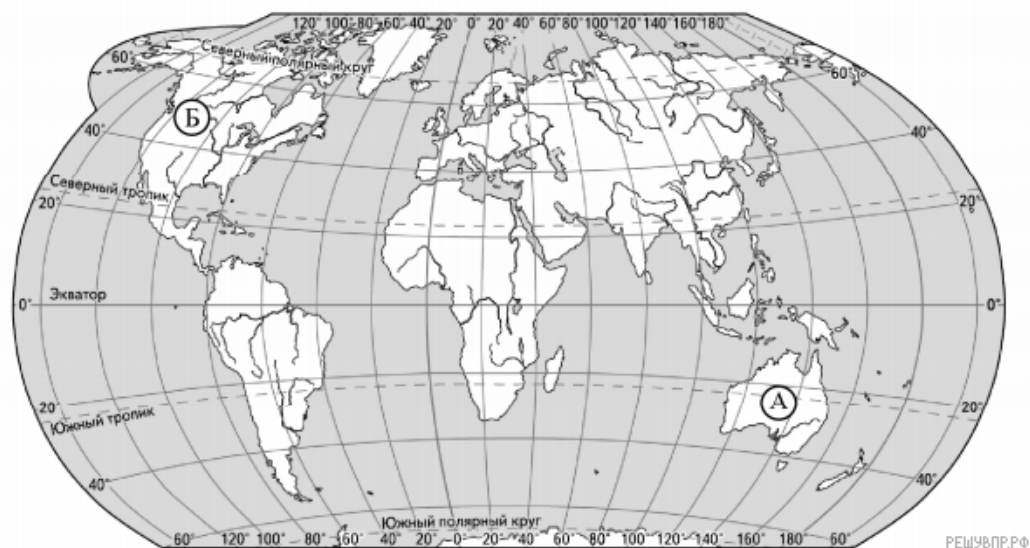
**2.** На интернет-сайтах погоды можно встретить подобные таблицы. Изучи прогноз погоды на трое суток по приведённой ниже таблице.

	Четверг 11 марта				Пятница 12 марта				Суббота 13 марта			
	Ночь	Утро	День	Вечер	Ночь	Утро	День	Вечер	Ночь	Утро	День	Вечер
Облачность и атмосферные осадки	☾	☁☀	☀	☾	☁☾	☁☔	☁☔	☁☾	☁☾	☁☀	☁☀	☾
Температура воздуха, °C	2	3	5	3	5	6	9	5	3	3	4	3
Ветер	↙	↙	↘	↘	↘	↗	↘	↘	↗	↙	↙	↗
Влажность воздуха, %	В	В	В	В	СЗ	З	СЗ	СЗ	СВ	В	В	СВ
	77	76	70	74	69	67	60	63	63	60	57	61

Выбери верные утверждения об ожидаемой погоде на эти трое суток и запиши в строку ответа их номера.

- 1) В пятницу днём ожидается небольшой дождь.
- 2) Самым тёплым днём в течение трёх суток будет пятница.
- 3) Влажность воздуха не изменится в течение трёх суток.
- 4) В четверг направление ветра будет меняться в течение суток.

3. Рассмотрите карту мира. На ней буквами А и Б отмечены два материка.



РЕШУ ВПР.РФ

Карта составлена по состоянию на 01.01.2020

Запиши название каждого материка в отведённое для этого поле.

Название материка А	Название материка Б
<input type="text"/>	<input type="text"/>



1)



2)



3)



4)

4. На иллюстрации представлены фотографии *кенгуру*, *пумы*, *эвкалипта* и *бизона*. Запиши название каждого из этих растений и животных рядом с номером фотографии, на которой оно изображено.

ЖИВОТНЫЕ

- А) Кенгуру
- Б) Пума
- В) Эвкалипт
- Г) Бизон

ФОТОГРАФИИ

1)



2)



3)



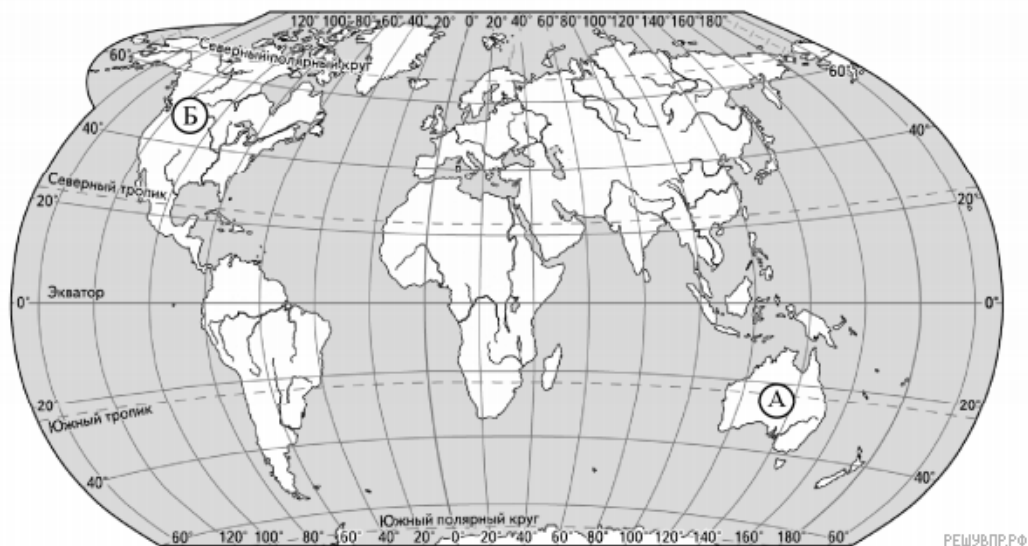
4)



Запишите в ответ цифры, расположив их в порядке, соответствующем буквам:

А	Б	В	Г
<input type="text"/>	<input type="text"/>	<input type="text"/>	<input type="text"/>

5. Рассмотрите карту мира. На ней буквами А и Б отмечены два материка.



Карта составлена по состоянию на 01.01.2021

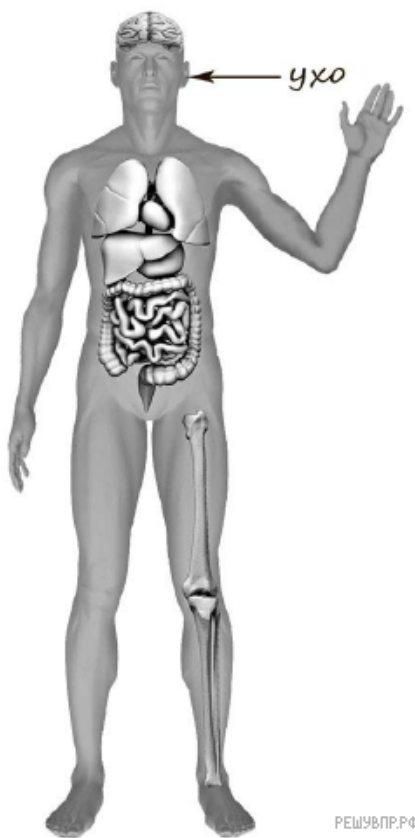
На иллюстрации представлены фотографии *кенгуру*, *пумы*, *эвкалипта* и *бизона*.

Какие из этих животных обитают и какое растение произрастает в естественной среде (не в ботаническом саду или зоопарке) на материке А, а какие — на материке Б? Запиши номера фотографий с изображением этих животных и растения в таблицу под соответствующими буквами.

Запиши номера фотографий с изображением этих животных и растений в таблицу под соответствующими буквами:

Материки	А	Б
Животные и растения	<input type="text"/>	<input type="text"/>

6. Рассмотрите изображение человека. Покажите стрелками и подпишите шею, запястье и печень человека так, как показано на примере.



7. Составьте два правила сохранения здоровья человека из приведённых частей фраз: для этого к каждой позиции первого столбца подберите соответствующую позицию из второго столбца.

НАЧАЛО ФРАЗЫ

- А) Чтобы не переохладиться, выходя на улицу в холодную погоду,
- Б) Чтобы избежать отравления,

ПРОДОЛЖЕНИЕ ФРАЗЫ

- 1) во время ходьбы передвигайся аккуратно, не спеша.
- 2) надень тёплую одежду.
- 3) не принимай лекарства без назначения врача.

Запишите в ответ цифры, расположив их в порядке, соответствующем буквам:

А	Б

В жаркий солнечный день Андрей решил провести опыт с нагреванием воды. Он взял две ёмкости: высокий металлический кувшин и широкую металлическую миску, налил в них одинаковое количество холодной воды одинаковой температуры, закрыл крышками, вынес на улицу и поставил обе ёмкости рядом друг с другом на солнце.

8. Сравните условия нагревания воды в ёмкостях в описанном опыте. Подчеркните в каждой строке одно из выделенных слов.

Исходная температура воды в ёмкостях: **одинаковая** / различная

Количество воды в ёмкостях: **одинаковое** / различное

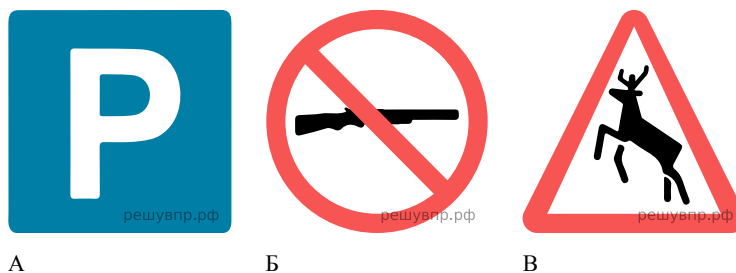
Форма ёмкостей: **одинаковая** / различная

Исходная температура воды в ёмкостях:	Количество воды в ёмкостях:	Форма ёмкостей:
<input type="text"/>	<input type="text"/>	<input type="text"/>

9. Какие измерения и сравнения в ходе этого опыта должен сделать Андрей, чтобы выяснить, влияет ли форма ёмкости на скорость нагревания воды?

10. Предположим, что Андрей захотел выяснить, влияет ли материал, из которого сделана ёмкость, на скорость нагревания воды в ней. С помощью какого опыта он мог бы это сделать? Опиши этот опыт.

Рассмотри знаки, изображённые на рисунках, и ответь на вопросы.



11. Какой из этих знаков относится к знакам охраны природы? Какое правило отражает этот знак?

12. Какие правила отражают два других знака? Запиши ответы в таблицу.

ЗНАК	ПРАВИЛО

13. На фотографиях изображены предметы, с которыми работают представители разных профессий. Выбери ОДНУ из фотографий и запиши букву, которой она обозначена. Представители какой профессии работают с изображёнными на выбранной фотографии предметами? Если ты знаешь много профессий, представители которых работают с выбранным(-и) тобой предметом(-ами), назови любую из них. Какую работу выполняют люди этой профессии? Чем работа людей этой профессии полезна обществу?



14. Каждый год в первую субботу июля Алёна вместе со своей семьёй отправляется в путешествие.

2021

Январь							Февраль							Март							Апрель									
пн	вт	ср	чт	пт	сб	вс	пн	вт	ср	чт	пт	сб	вс	пн	вт	ср	чт	пт	сб	вс	пн	вт	ср	чт	пт	сб	вс			
					1	2	3	1	2	3	4	5	6	7	1	2	3	4	5	6	7				1	2	3	4		
4	5	6	7	8	9	10	8	9	10	11	12	13	14	8	9	10	11	12	13	14	5	6	7	8	9	10	11			
11	12	13	14	15	16	17	15	16	17	18	19	20	21	15	16	17	18	19	20	21	12	13	14	15	16	17	18			
18	19	20	21	22	23	24	22	23	24	25	26	27	28	22	23	24	25	26	27	28	19	20	21	22	23	24	25			
25	26	27	28	29	30	31								29	30	31	26	27	28	29	30									
Май							Июнь							Июль							Август									
пн	вт	ср	чт	пт	сб	вс	пн	вт	ср	чт	пт	сб	вс	пн	вт	ср	чт	пт	сб	вс	пн	вт	ср	чт	пт	сб	вс			
					1	2	1	2	3	4	5	6				1	2	3	4							1				
3	4	5	6	7	8	9	7	8	9	10	11	12	13	5	6	7	8	9	10	11	2	3	4	5	6	7	8			
10	11	12	13	14	15	16	14	15	16	17	18	19	20	12	13	14	15	16	17	18	9	10	11	12	13	14	15			
17	18	19	20	21	22	23	21	22	23	24	25	26	27	19	20	21	22	23	24	25	16	17	18	19	20	21	22			
24	25	26	27	28	29	30	28	29	30	26	27	28	29	30	31	23	24	25	26	27	28	29	23	24	25	26	27	28	29	
						31														30	31									
Сентябрь							Октябрь							Ноябрь							Декабрь									
пн	вт	ср	чт	пт	сб	вс	пн	вт	ср	чт	пт	сб	вс	пн	вт	ср	чт	пт	сб	вс	пн	вт	ср	чт	пт	сб	вс			
					1	2	3	4	5				1	2	3	1	2	3	4	5	6	7				1	2	3	4	5
6	7	8	9	10	11	12	4	5	6	7	8	9	10	8	9	10	11	12	13	14	6	7	8	9	10	11	12			
13	14	15	16	17	18	19	11	12	13	14	15	16	17	15	16	17	18	19	20	21	13	14	15	16	17	18	19			
20	21	22	23	24	25	26	18	19	20	21	22	23	24	22	23	24	25	26	27	28	20	21	22	23	24	25	26			
27	28	29	30	25	26	27	28	29	30	31	29	30	27	28	29	30	31	27	28	29	30	31								

Обведи этот день в календаре.

Запиши, какого числа Алёна отправится в путешествие в 2021 году.

Как ты думаешь, какую роль играют путешествия в жизни человека? (Напиши ответ объёмом до пяти предложений.)

**15.** 10.1. Запиши название региона: республики, или области, или края, или города, или автономного округа, в котором ты живёшь.

10.2. В какой природной зоне расположен твой регион?

Как называется главный город твоего региона? Какие известные люди живут или жили в твоём регионе (укажи не менее двух известных людей)? Напиши об одном из известных твоих земляков. Чем он прославил свой регион?