

Рассмотри знаки, изображённые на рисунках, и ответь на вопросы.

А Б В



1. Какой из этих знаков можно встретить на дороге? Какое правило отражает этот знак?

Рассмотри знаки, изображённые на рисунках, и ответь на вопросы.

А Б В



2. Какой из этих знаков можно встретить в магазине? Какое правило отражает этот знак?

Рассмотри знаки, изображённые на рисунках, и ответь на вопросы.

А Б В



3. Какой из этих знаков можно встретить на этикетке одежды? Какое правило отражает этот знак?

Рассмотри знаки, изображённые на рисунках, и ответь на вопросы.

А Б В



4. Какой из этих знаков можно встретить в парке? Какое правило отражает этот знак?

Рассмотри знаки, изображённые на рисунках, и ответь на вопросы.

А Б В



5. Какой из этих знаков можно встретить на дороге/улице? Какое правило отражает этот знак?

Рассмотри знаки, изображённые на рисунках, и ответь на вопросы.

А Б В



6. Какой из этих знаков можно встретить в заповеднике? Какое правило отражает этот знак?

Рассмотри знаки, изображённые на рисунках, и ответь на вопросы.

А Б В



7. Какой из этих знаков можно встретить на электрическом щитке? Какое правило отражает этот знак?

Рассмотри знаки, изображённые на рисунках, и ответь на вопросы.

А Б В



8. Какой из этих знаков можно встретить около железной дороги? Какое правило отражает этот знак?

Рассмотри знаки, изображённые на рисунках, и ответь на вопросы.

А Б В



9. Какой из этих знаков можно встретить в театре? Какое правило отражает этот знак?

Рассмотри знаки, изображённые на рисунках, и ответь на вопросы.

А Б В



10. Какой из этих знаков можно встретить в метро? Какое правило отражает этот знак?

Рассмотри знаки, изображённые на рисунках, и ответь на вопросы.

А Б В



11. Какой из этих знаков можно встретить в поликлинике? Какое правило отражает этот знак?

Рассмотри знаки, изображённые на рисунках, и ответь на вопросы.

А Б В



12. Какой из этих знаков можно встретить в музее? Какое правило отражает этот знак?

Рассмотри знаки, изображённые на рисунках, и ответь на вопросы.

А Б В



13. Какой из этих знаков можно встретить около магазина? Какое правило отражает этот знак?

Рассмотри знаки, изображённые на рисунках, и ответь на вопросы.

А Б В



14. Какой из этих знаков можно встретить на проезжей части улицы около автостоянки? Какое правило отражает этот знак?

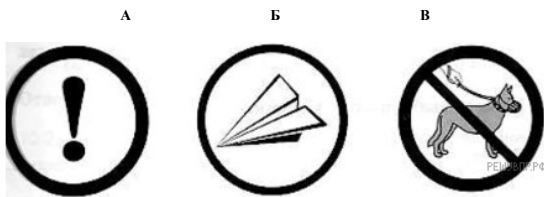
Рассмотри знаки, изображённые на рисунках, и ответь на вопросы.

А Б В



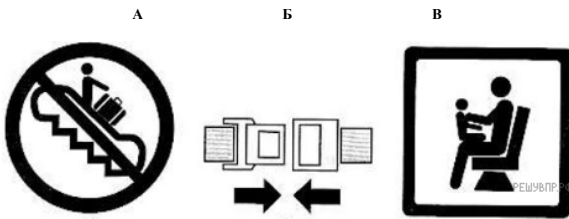
15. Какой из этих знаков можно встретить в парке? Какое правило отражает этот знак?

Рассмотри знаки, изображённые на рисунках, и ответь на вопросы.




16. Какой из этих знаков можно встретить на баках для бытовых отходов? Какое правило отражает этот знак?

Рассмотри знаки, изображённые на рисунках, и ответь на вопросы.




17. Какой из этих знаков можно встретить в самолёте? Какое правило отражает этот знак?

Рассмотри знаки, изображённые на рисунках, и ответь на вопросы.



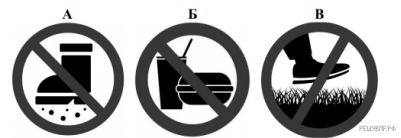
18. Какой из этих знаков можно встретить в театре? Какое правило отражает этот знак?

Рассмотри знаки, изображённые на рисунках, и ответь на вопросы.




19. Какой из этих знаков можно встретить около водоёма? Какое правило отражает этот знак?

Рассмотри знаки, изображённые на рисунках, и ответь на вопросы.



20. Какой из этих знаков можно встретить в парке или на детской площадке? Какое правило отражает этот знак?

Рассмотри знаки, изображённые на рисунках, и ответь на вопросы.



21. Какой из этих знаков можно встретить в библиотеке? Какое правило отражает этот знак?