

Рассмотри знаки, изображённые на рисунках, и ответь на вопросы.



А



Б



В


7. Какие правила отражают два других знака? Запиши ответы в таблицу.

ЗНАК	ПРАВИЛО

Рассмотри знаки, изображённые на рисунках, и ответь на вопросы.



А



Б



В

8. Какие правила отражают два других знака? Запиши ответы в таблицу.

ЗНАК	ПРАВИЛО

Рассмотри знаки, изображённые на рисунках, и ответь на вопросы.



А



Б



В

9. Какие правила отражают два других знака? Запиши ответы в таблицу.

ЗНАК	ПРАВИЛО

Рассмотри знаки, изображённые на рисунках, и ответь на вопросы.



А



Б



В

10. Какие правила отражают два других знака? Запиши ответы в таблицу.

ЗНАК	ПРАВИЛО

Рассмотри знаки, изображённые на рисунках, и ответь на вопросы.



А



Б



В

11. Какие правила отражают два других знака? Запиши ответы в таблицу.

ЗНАК	ПРАВИЛО

Рассмотри знаки, изображённые на рисунках, и ответь на вопросы.



А



Б



В

12. Какие правила отражают два других знака? Запиши ответы в таблицу.

ЗНАК	ПРАВИЛО

Рассмотри знаки, изображённые на рисунках, и ответь на вопросы.



А Б В

13. Какие правила отражают два других знака? Запиши ответы в таблицу.

ЗНАК	ПРАВИЛО

Рассмотри знаки, изображённые на рисунках, и ответь на вопросы.



А Б В

14. Какие правила отражают два других знака? Запиши ответы в таблицу.

ЗНАК	ПРАВИЛО

Рассмотри знаки, изображённые на рисунках, и ответь на вопросы.



А Б В

15. Какие правила отражают два других знака? Запиши ответы в таблицу.

ЗНАК	ПРАВИЛО

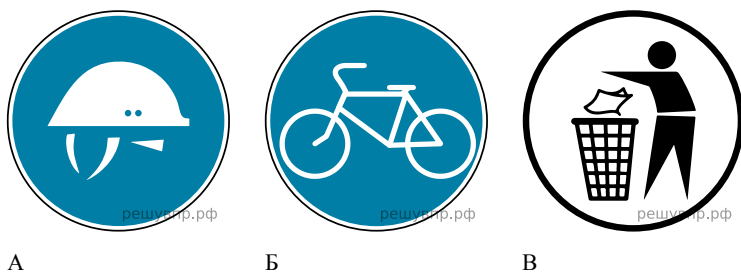
Рассмотри знаки, изображённые на рисунках, и ответь на вопросы.



16. Какие правила отражают два других знака? Запиши ответы в таблицу.

ЗНАК	ПРАВИЛО


Рассмотри знаки, изображённые на рисунках, и ответь на вопросы.



17. Какие правила отражают два других знака? Запиши ответы в таблицу.

ЗНАК	ПРАВИЛО

Рассмотри знаки, изображённые на рисунках, и ответь на вопросы.



18. Какие правила отражают два других знака? Запиши ответы в таблицу.

ЗНАК	ПРАВИЛО

Рассмотри знаки, изображённые на рисунках, и ответь на вопросы.



А



Б



В

19. Какие правила отражают два других знака? Запиши ответы в таблицу.

ЗНАК	ПРАВИЛО

Рассмотри знаки, изображённые на рисунках, и ответь на вопросы.



А



Б



В

20. Какие правила отражают два других знака? Запиши ответы в таблицу.

ЗНАК	ПРАВИЛО

Рассмотри знаки, изображённые на рисунках, и ответь на вопросы.



А



Б



В

21. Какие правила отражают два других знака? Запиши ответы в таблицу.

ЗНАК	ПРАВИЛО

