


Рассмотри знаки, изображённые на рисунках, и ответь на вопросы.



А



Б



В


1. Какие правила отражают два других знака? Запиши ответы в таблицу.

ЗНАК	ПРАВИЛО

Рассмотри знаки, изображённые на рисунках, и ответь на вопросы.



А



Б



В

2. Какие правила отражают два других знака? Запиши ответы в таблицу.

ЗНАК	ПРАВИЛО


Рассмотри знаки, изображённые на рисунках, и ответь на вопросы.



А



Б



В

3. Какие правила отражают два других знака? Запиши ответы в таблицу.

ЗНАК	ПРАВИЛО

Рассмотри знаки, изображённые на рисунках, и ответь на вопросы.



А



Б



В

4. Какие правила отражают два других знака? Запиши ответы в таблицу.

ЗНАК	ПРАВИЛО

5. Какие правила отражают два других знака? Запиши ответы в таблицу.

ЗНАК	ПРАВИЛО

Рассмотри знаки, изображённые на рисунках, и ответь на вопросы.



А



Б



В

6. Какие правила отражают два других знака? Запиши ответы в таблицу.

ЗНАК	ПРАВИЛО

Рассмотри знаки, изображённые на рисунках, и ответь на вопросы.



А



Б



В

7. Какие правила отражают два других знака? Запиши ответы в таблицу.

ЗНАК	ПРАВИЛО

Рассмотри знаки, изображённые на рисунках, и ответь на вопросы.



А



Б



В

8. Какие правила отражают два других знака? Запиши ответы в таблицу.

ЗНАК	ПРАВИЛО


Рассмотри знаки, изображённые на рисунках, и ответь на вопросы.



А



Б



В

9. Какие правила отражают два других знака? Запиши ответы в таблицу.

ЗНАК	ПРАВИЛО


Рассмотри знаки, изображённые на рисунках, и ответь на вопросы.



А



Б




В

10. Какие правила отражают два других знака? Запиши ответы в таблицу.

ЗНАК	ПРАВИЛО

Рассмотри знаки, изображённые на рисунках, и ответь на вопросы.



А

Б

В

11. Какие правила отражают два других знака? Запиши ответы в таблицу.

ЗНАК	ПРАВИЛО

Рассмотри знаки, изображённые на рисунках, и ответь на вопросы.



А

Б

В

12. Какие правила отражают два других знака? Запиши ответы в таблицу.

ЗНАК	ПРАВИЛО

Рассмотри знаки, изображённые на рисунках, и ответь на вопросы.



А

Б

В

13. Какие правила отражают два других знака? Запиши ответы в таблицу.

ЗНАК	ПРАВИЛО

Рассмотри знаки, изображённые на рисунках, и ответь на вопросы.



А



Б



В


14. Какие правила отражают два других знака? Запиши ответы в таблицу.

ЗНАК	ПРАВИЛО

Рассмотри знаки, изображённые на рисунках, и ответь на вопросы.



А



Б



В

15. Какие правила отражают два других знака? Запиши ответы в таблицу.

ЗНАК	ПРАВИЛО

Рассмотри знаки, изображённые на рисунках, и ответь на вопросы.



А



Б



В

16. Какие правила отражают два других знака? Запиши ответы в таблицу.

ЗНАК	ПРАВИЛО


Рассмотри знаки, изображённые на рисунках, и ответь на вопросы.



А



Б



В


17. Какие правила отражают два других знака? Запиши ответы в таблицу.

ЗНАК	ПРАВИЛО


Рассмотри знаки, изображённые на рисунках, и ответь на вопросы.



А



Б



В

18. Какие правила отражают два других знака? Запиши ответы в таблицу.

ЗНАК	ПРАВИЛО