


1. Внимательно рассмотри рисунок, на котором изображён автобус на остановке. Крышка фары автобуса может быть изготовлена из пластика. Она отмечена на рисунке стрелкой с соответствующей надписью. Какие предметы или детали среди изображённых на рисунке могут быть сделаны из стекла, а какие — из металла? Укажи на рисунке стрелкой любой предмет (деталь) из стекла и любой предмет (деталь) из металла. Подпиши название соответствующего материала рядом с каждой стрелкой.



2. Рассмотри рисунок, на котором изображены коньки на льду. Лёд может быть изготовлен из воды. Он отмечен на рисунке стрелкой с соответствующей надписью.

Покажи на рисунке стрелкой любой предмет (любую деталь) из металла и любой предмет (любую деталь) из кожи. Подпиши название соответствующего материала рядом с каждой стрелкой.




3. Рассмотри рисунок, на котором изображён автомобиль. Крышка фары автомобиля может быть изготовлена из пластика. Она отмечена на рисунке стрелкой с соответствующей надписью.

Покажи на рисунке стрелкой любой предмет (любую деталь) из металла и любой предмет (любую деталь) из резины. Подпиши название соответствующего материала рядом с каждой стрелкой.



4. Рассмотрите рисунок, на котором изображён автобус на остановке. Крышка фары автобуса может быть изготовлена из пластика. Она отмечена на рисунке стрелкой с соответствующей надписью.

Покажи на рисунке стрелкой любой предмет (любую деталь) из дерева и любой предмет (любую деталь) из резины. Подпиши название соответствующего материала рядом с каждой стрелкой.




5. Рассмотрите рисунок, на котором изображены предметы с садового участка. Цветочный горшок может быть изготовлен из глины. Он отмечен на рисунке стрелкой с соответствующей надписью.

Покажи на рисунке стрелкой любой предмет (любую деталь) из дерева и любой предмет (любую деталь) из пластика. Подпиши название соответствующего материала рядом с каждой стрелкой.



6. Рассмотрите рисунок, на котором изображён автомобиль. Крышка фары автомобиля может быть изготовлена из пластика. Она отмечена на рисунке стрелкой с соответствующей надписью.

Покажи на рисунке стрелкой любой предмет (любую деталь) из стекла и любой предмет (любую деталь) из ткани. Подпиши название соответствующего материала рядом с каждой стрелкой.



7. Рассмотрите рисунок, на котором изображён рабочий стол. Книга может быть изготовлена из бумаги. Она отмечена на рисунке стрелкой с соответствующей надписью.

Покажи на рисунке стрелкой любой предмет (любую деталь) из дерева и любой предмет (любую деталь) из пластика. Подпиши название соответствующего материала рядом с каждой стрелкой.

