


Рассмотри знаки, изображённые на рисунках, и ответь на вопросы.



А



Б



В


1. Какие правила отражают два других знака? Запиши ответы в таблицу.

ЗНАК	ПРАВИЛО

Рассмотри знаки, изображённые на рисунках, и ответь на вопросы.



А



Б



В

2. Какие правила отражают два других знака? Запиши ответы в таблицу.

ЗНАК	ПРАВИЛО


Рассмотри знаки, изображённые на рисунках, и ответь на вопросы.



А



Б



В

3. Какие правила отражают два других знака? Запиши ответы в таблицу.

ЗНАК	ПРАВИЛО

Рассмотри знаки, изображённые на рисунках, и ответь на вопросы.



А



Б



В

4. Какие правила отражают два других знака? Запиши ответы в таблицу.

ЗНАК	ПРАВИЛО

5. Какие правила отражают два других знака? Запиши ответы в таблицу.

ЗНАК	ПРАВИЛО

Рассмотри знаки, изображённые на рисунках, и ответь на вопросы.



А



Б



В

6. Какие правила отражают два других знака? Запиши ответы в таблицу.

ЗНАК	ПРАВИЛО

Рассмотри знаки, изображённые на рисунках, и ответь на вопросы.



А

Б

В

7. Какие правила отражают два других знака? Запиши ответы в таблицу.

ЗНАК	ПРАВИЛО

Рассмотри знаки, изображённые на рисунках, и ответь на вопросы.



А

Б

В

8. Какие правила отражают два других знака? Запиши ответы в таблицу.

ЗНАК	ПРАВИЛО

Рассмотри знаки, изображённые на рисунках, и ответь на вопросы.



А

Б

В

9. Какие правила отражают два других знака? Запиши ответы в таблицу.

ЗНАК	ПРАВИЛО


Рассмотри знаки, изображённые на рисунках, и ответь на вопросы.



10. Какие правила отражают два других знака? Запиши ответы в таблицу.

ЗНАК	ПРАВИЛО

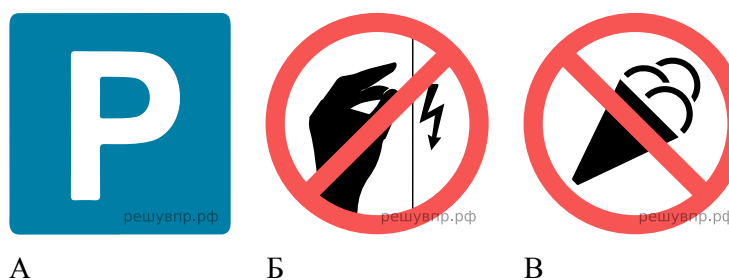
Рассмотри знаки, изображённые на рисунках, и ответь на вопросы.



11. Какие правила отражают два других знака? Запиши ответы в таблицу.

ЗНАК	ПРАВИЛО


Рассмотри знаки, изображённые на рисунках, и ответь на вопросы.



12. Какие правила отражают два других знака? Запиши ответы в таблицу.

ЗНАК	ПРАВИЛО


Рассмотри знаки, изображённые на рисунках, и ответь на вопросы.



13. Какие правила отражают два других знака? Запиши ответы в таблицу.

ЗНАК	ПРАВИЛО

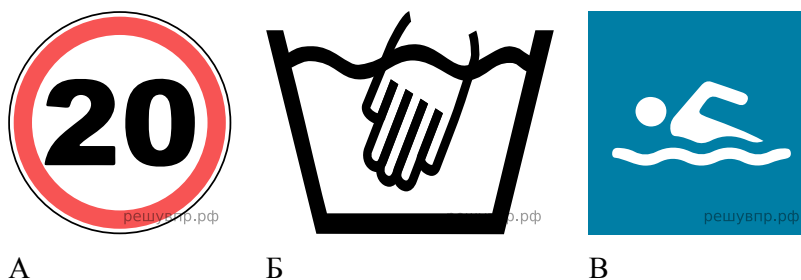
Рассмотри знаки, изображённые на рисунках, и ответь на вопросы.



14. Какие правила отражают два других знака? Запиши ответы в таблицу.

ЗНАК	ПРАВИЛО


Рассмотри знаки, изображённые на рисунках, и ответь на вопросы.



15. Какие правила отражают два других знака? Запиши ответы в таблицу.

ЗНАК	ПРАВИЛО

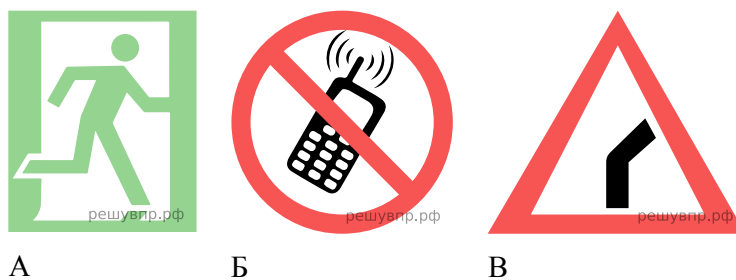
Рассмотри знаки, изображённые на рисунках, и ответь на вопросы.



16. Какие правила отражают два других знака? Запиши ответы в таблицу.

ЗНАК	ПРАВИЛО


Рассмотри знаки, изображённые на рисунках, и ответь на вопросы.



17. Какие правила отражают два других знака? Запиши ответы в таблицу.

ЗНАК	ПРАВИЛО

Рассмотри знаки, изображённые на рисунках, и ответь на вопросы.



18. Какие правила отражают два других знака? Запиши ответы в таблицу.

ЗНАК	ПРАВИЛО